

Сложение. Напиши ответ.

$9 + 8 =$

$9 + 9 =$

$14 + 6 =$

$16 + 3 =$

$15 + 2 =$

$11 + 7 =$

$4 + 12 =$

$7 + 7 =$

$8 + 5 =$

$5 + 7 =$

$18 + 2 =$

$11 + 4 =$

$8 + 11 =$

$3 + 17 =$

$7 + 10 =$

$14 + 5 =$

$5 + 14 =$

$3 + 15 =$

$3 + 7 =$

$6 + 6 =$

$9 + 6 =$

$6 + 13 =$

$9 + 11 =$

$17 + 2 =$

$17 + 2 =$

$14 + 2 =$

$15 + 5 =$

$16 + 1 =$

$16 + 4 =$

$8 + 11 =$

$10 + 1 =$

$5 + 5 =$

$3 + 12 =$

$15 + 3 =$

$13 + 7 =$

$1 + 1 =$

$8 + 7 =$

$15 + 4 =$

$5 + 14 =$

$14 + 3 =$

$7 + 9 =$

$4 + 7 =$

$7 + 12 =$

$19 + 1 =$

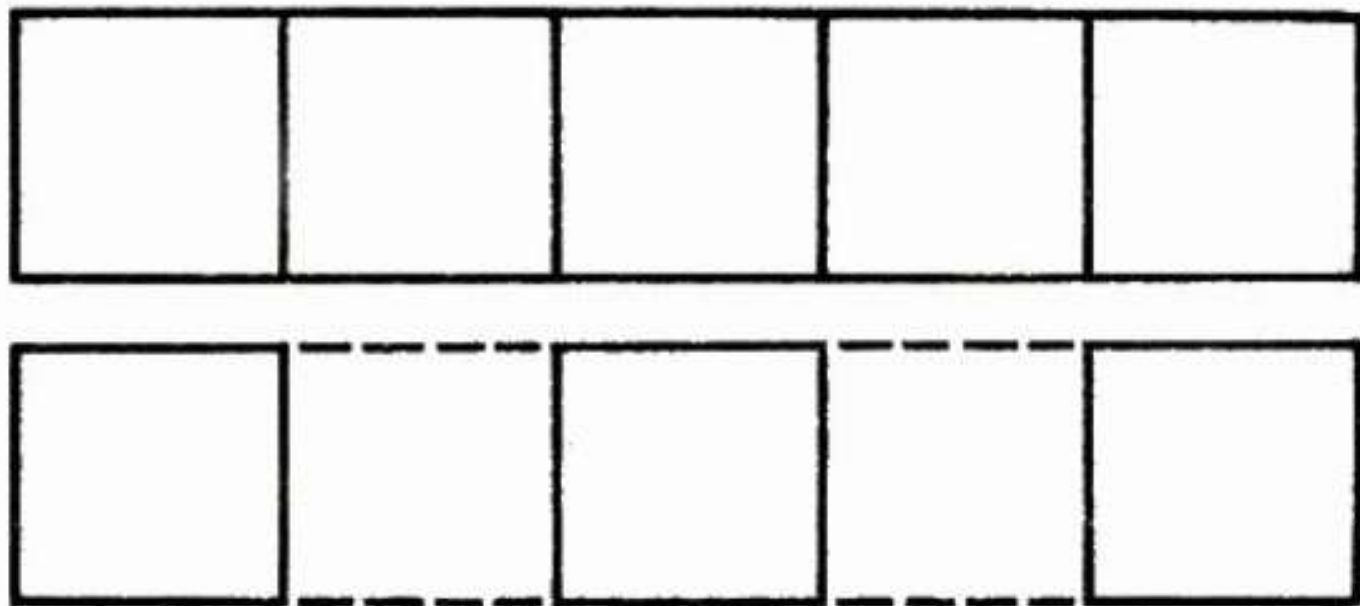
$10 + 9 =$


$8 + 8 =$

$12 + 5 =$

$16 + 2 =$

В фигуре из 5
квадратов убрать 4
палочки, чтобы
осталось 3 квадрата
(рис. 13).





Впиши пропущенные числа.

4		6
---	--	---

12		14
----	--	----

18	19	
----	----	--

7		9
---	--	---

15	16	
----	----	--

	15	
--	----	--

9	10	
---	----	--

	18	
--	----	--

17		19
----	--	----

	9	10
--	---	----

11		13
----	--	----

18		20
----	--	----

Напиши соседние числа.

	9	
--	---	--

	10	
--	----	--

	11	
--	----	--

	12	
--	----	--

	14	
--	----	--


	19	
--	----	--

	7	
--	---	--


	5	
--	---	--

	16	
--	----	--


Найди пару, соедини линией.




13



16



14



18

Реши примеры.

$10 + 1 \rightarrow \begin{array}{|c|c|} \hline & \\ \hline \end{array}$

$10 + 6 \rightarrow \begin{array}{|c|c|} \hline & \\ \hline \end{array}$

$10 + 2 \rightarrow \begin{array}{|c|c|} \hline & \\ \hline \end{array}$

$10 + 7 \rightarrow \begin{array}{|c|c|} \hline & \\ \hline \end{array}$

$10 + 3 \rightarrow \begin{array}{|c|c|} \hline & \\ \hline \end{array}$

$10 + 8 \rightarrow \begin{array}{|c|c|} \hline & \\ \hline \end{array}$

$10 + 4 \rightarrow \begin{array}{|c|c|} \hline & \\ \hline \end{array}$

$10 + 9 \rightarrow \begin{array}{|c|c|} \hline & \\ \hline \end{array}$

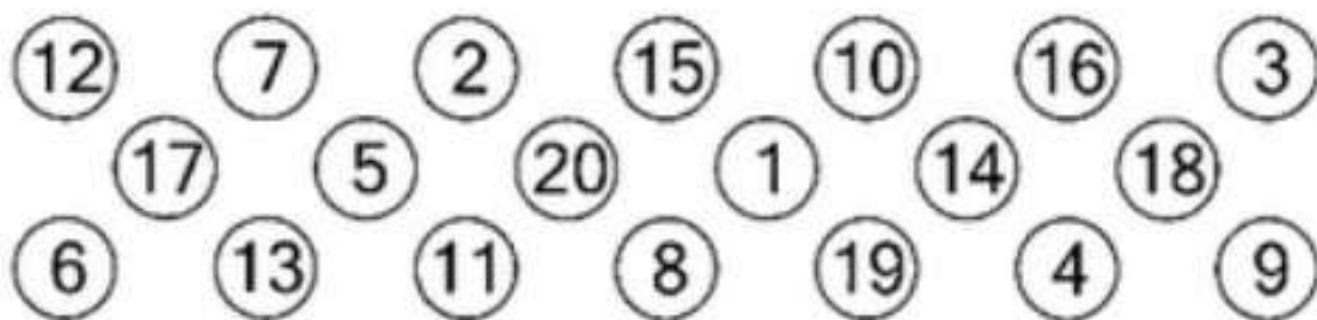
$10 + 5 \rightarrow \begin{array}{|c|c|} \hline & \\ \hline \end{array}$

$10 + 10 \rightarrow \begin{array}{|c|c|} \hline & \\ \hline \end{array}$

Продолжи:




Соедини числа по порядку от 1 до 20.

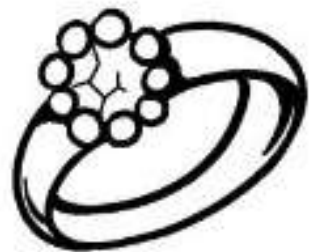



Сорви по одному листочку с каждой веточки. Напиши, сколько останется.



Продолжи ряд. Напиши цифры.





Составить домик из 6 палочек, а затем переложить 2 палочки так, чтобы получился флажок (рис. 6).

